

Bearbeitungszeit
Aufgabengruppe A:
30 Minuten

Abschlussprüfung 2023

an den Realschulen in Bayern



Mathematik II taschenrechnerfreier Teil

Name: _____ Vorname: _____

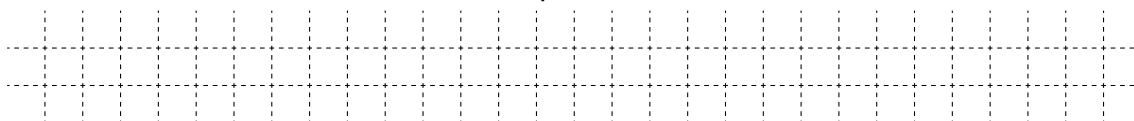
Klasse: _____ Platznummer: _____ / 10,5

Aufgabengruppe A

Nachtermin

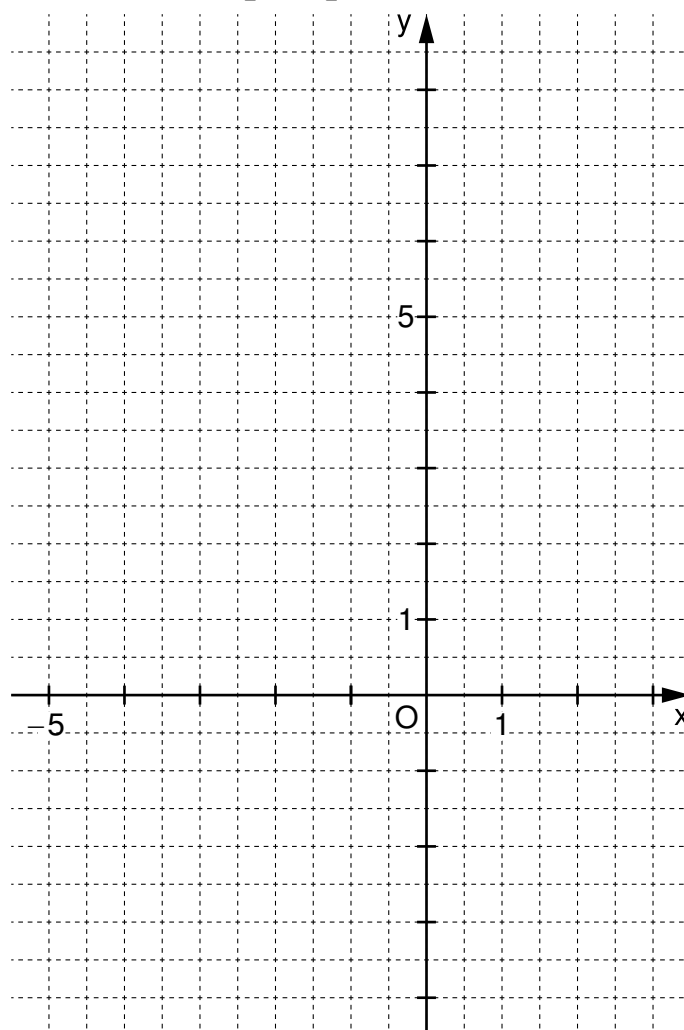
A 1.0 Die Parabel p hat die Gleichung $y = -0,25 \cdot (x+1)^2 + 3$ ($x, y \in \mathbb{R}$).

A 1.1 Geben Sie die Koordinaten des Scheitelpunkts S an.




1 P

A 1.2 Zeichnen Sie die Parabel p für $x \in [-5; 3]$ in das Koordinatensystem ein.



1,5 P

A 2 Lösen Sie die Gleichung $0,5x^2 + x - 4 = 0$ ($x \in \mathbb{R}$).

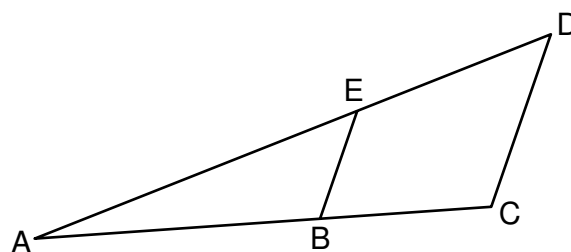


2 P


A 3 Die nebenstehende Skizze zeigt das Trapez BCDE. Der Punkt A ist der Schnittpunkt der Geraden BC und ED.

Es gilt: $|\overline{BE}| = 5 \text{ cm}$; $|\overline{CD}| = 8 \text{ cm}$;

$|\overline{BC}| = 7,5 \text{ cm}$; $\overline{BE} \parallel \overline{CD}$.



Berechnen Sie die Länge der Strecke \overline{AB} .



3 P

Notizen:

A large grid of dashed lines for taking notes, consisting of 20 columns and 30 rows.

Prüfungsdauer:
150 Minuten

Abschlussprüfung 2023

an den Realschulen in Bayern



Mathematik II – Nachtermin

Prüfungsdauer: 150 Minuten

Die Aufgabengruppe A (Bearbeitung ohne Taschenrechner, aber mit zugelassener Formelsammlung) ist ausschließlich auf dem dafür vorgesehenen Bogen zu bearbeiten und nach 30 Minuten abzugeben. Wird für die Aufgabengruppe A weniger Zeit benötigt, kann bereits – zunächst ohne Taschenrechner – mit der Aufgabengruppe B begonnen werden.

Anschließend dürfen alle zugelassenen Hilfsmittel verwendet werden.

Name: _____ Vorname: _____

Klasse: _____ Platznummer: _____

	Erstkorrektur:	Zweitkorrektur:
Erreichte Punkte:		
Aufgabengruppe A:	_____ / 10,5	_____ / 10,5
Aufgabe B 1:	_____ / 5	_____ / 5
Aufgabe B 2:	_____ / 6	_____ / 6
Aufgabe B 3:	_____ / 16	_____ / 16
Aufgabe B 4:	_____ / 16	_____ / 16

Gesamt: _____ / 53,5 _____ / 53,5

Note: _____

Unterschrift: _____

B 1.0 In einem Supermarkt werden regionale („R“) und nichtregionale („nR“) Produkte angeboten. Dabei beträgt der Anteil der regionalen Produkte $p\%$ ($p \in \mathbb{R}^+$).

Alle Produkte sind entweder biologisch („B“) oder nichtbiologisch („nB“) erzeugt. 20% der regionalen Produkte des Supermarkts sind biologisch erzeugt. Bei den nichtregionalen Produkten sind dies nur 5%.

B 1.1 Zeichnen Sie ein zugehöriges Baumdiagramm, in dem alle prozentualen Anteile ersichtlich sind.

2,5 P

B 1.2 In diesem Supermarkt findet eine Warenkontrolle statt. Bei der zufälligen Auswahl eines Produktes erhält man mit einer Wahrscheinlichkeit von 6% ein regionales, biologisch erzeugtes Produkt.

Berechnen Sie den Anteil $p\%$ aller regionalen Produkte dieses Supermarkts in Prozent.

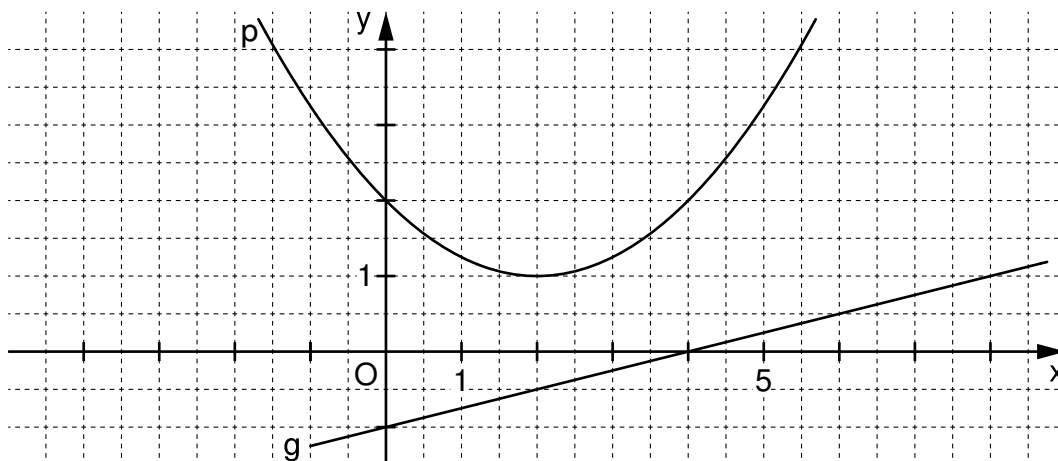
1,5 P

B 1.3 Dieser Supermarkt bietet insgesamt 15 000 Produkte an.

Berechnen Sie die Anzahl der regionalen, biologisch erzeugten Produkte.

1 P

B 2.0 Gegeben sind die Parabel p mit der Gleichung $y = 0,25x^2 - x + 2$ ($x, y \in \mathbb{R}$) und die Gerade g mit der Gleichung $y = 0,25x - 1$ ($x, y \in \mathbb{R}$).




B 2.1 Punkte $A_n(x | 0,25x - 1)$ auf der Geraden g und Punkte $B_n(x | 0,25x^2 - x + 2)$ auf der Parabel p haben dieselbe Abszisse x. Sie sind zusammen mit Punkten C_n Eckpunkte von Dreiecken $A_n B_n C_n$. Es gilt: $\overrightarrow{A_n C_n} = \begin{pmatrix} -4 \\ 3 \end{pmatrix}$.

Zeichnen Sie die Dreiecke $A_1 B_1 C_1$ für $x = 0$ und $A_2 B_2 C_2$ für $x = 4$ in das Koordinatensystem zu B 2.0 ein.


2 P

B 2.2 Zeigen Sie rechnerisch, dass für die Länge der Strecken $\overline{A_n B_n}$ in Abhängigkeit von der Abszisse x der Punkte A_n gilt: $|\overline{A_n B_n}|(x) = (0,25x^2 - 1,25x + 3)$ LE.



1 P

B 2.3 Die Dreiecke $A_3 B_3 C_3$ und $A_4 B_4 C_4$ sind gleichschenkelig mit der Basis $\overline{B_3 C_3}$ bzw. $\overline{B_4 C_4}$. Berechnen Sie die zugehörigen Werte von x. Runden Sie auf zwei Stellen nach dem Komma.



3 P



Mathematik II

Aufgabe B 3

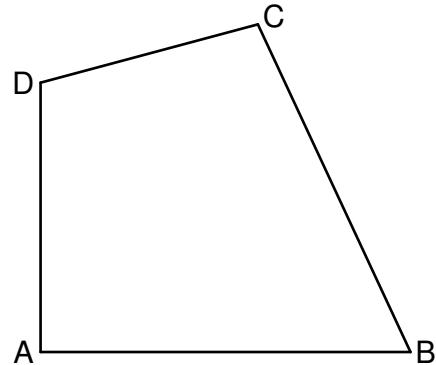
Nachtermin

B 3.0 Die nebenstehende Skizze zeigt das Viereck ABCD.

Es gilt: $|\overline{AB}| = 11 \text{ cm}$; $|\overline{AD}| = 8 \text{ cm}$;

$\sphericalangle CBA = 65^\circ$; $\sphericalangle ADC = 105^\circ$; $\sphericalangle BAD = 90^\circ$.

Runden Sie im Folgenden auf zwei Stellen nach dem Komma.



B 3.1 Zeichnen Sie das Viereck ABCD und die Strecke \overline{BD} .

Berechnen Sie sodann das Maß des Winkels DCB und die Länge der Strecke \overline{BD} .

[Teilergebnisse: $\sphericalangle DCB = 100^\circ$; $|\overline{BD}| = 13,60 \text{ cm}$]

3,5 P

B 3.2 Berechnen Sie die Längen der Strecken \overline{DC} und \overline{BC} .

[Zwischenergebnis: $\sphericalangle CBD = 28,97^\circ$; Teilergebnis: $|\overline{BC}| = 10,74 \text{ cm}$]

4 P

B 3.3 Bestimmen Sie den Flächeninhalt A_{ABCD} des Vierecks ABCD.

[Ergebnis: $A_{ABCD} = 79,37 \text{ cm}^2$]

2 P

B 3.4 Der Kreis mit dem Mittelpunkt C und dem Radius $r = 4 \text{ cm}$ schneidet die Strecke \overline{DC} im Punkt P und die Strecke \overline{BC} im Punkt Q.

Ergänzen Sie in der Zeichnung zu B 3.1 den Kreisbogen \widehat{PQ} mit dem Mittelpunkt C und die Strecke \overline{PQ} .

1 P

B 3.5 Der Kreisbogen \widehat{PQ} und die Strecke \overline{PQ} begrenzen eine Figur.

Berechnen Sie den Umfang dieser Figur.

2,5 P

B 3.6 Berechnen Sie den prozentualen Anteil des Flächeninhalts der Figur aus B 3.5 am Flächeninhalt des Vierecks ABCD.

3 P



Mathematik II

Aufgabe B 4

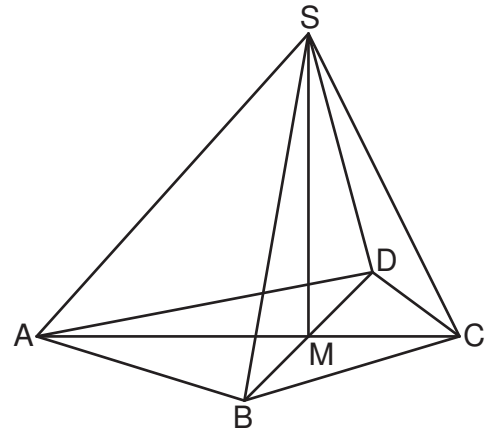
Nachtermin

B 4.0 Das Drachenviereck ABCD mit der Symmetrieachse AC und dem Diagonalschnittpunkt M ist die Grundfläche der Pyramide ABCDS mit der Höhe \overline{MS} .

Es gilt: $|\overline{AC}| = 14 \text{ cm}$; $|\overline{CM}| = 5 \text{ cm}$;

$|\overline{BD}| = 12 \text{ cm}$; $|\overline{MS}| = 10 \text{ cm}$.

Die nebenstehende Skizze zeigt ein Schrägbild der Pyramide ABCDS.



Runden Sie im Folgenden auf zwei Stellen nach dem Komma.

B 4.1 Zeichnen Sie das Schrägbild der Pyramide ABCDS, wobei \overline{AC} auf der Schrägbildachse und der Punkt A links vom Punkt C liegen soll.

Für die Zeichnung gilt: $q = \frac{1}{2}$; $\omega = 45^\circ$.

Berechnen Sie sodann die Länge der Strecke \overline{CS} und das Maß des Winkels SCA.

[Teilergebnisse: $|\overline{CS}| = 11,18 \text{ cm}$; $\sphericalangle SCA = 63,43^\circ$]

4 P

B 4.2 Für Punkte $P_n \in \overline{CS}$ und $T_n \in \overline{AM}$ gilt: $|\overline{SP_n}|(x) = 0,5 \cdot x \text{ cm}$ und $|\overline{MT_n}|(x) = x \text{ cm}$ mit $x \in \mathbb{R}$ und $0 < x \leq 9$. Die Punkte P_n sind die Spitzen von Pyramiden T_nBCDP_n mit den Grundflächen T_nBCD und den Höhen $\overline{F_nP_n}$.

Zeichnen Sie die Pyramide T_1BCDP_1 und die Höhe $\overline{F_1P_1}$ für $x = 7$ in das Schrägbild zu B 4.1 ein.

Berechnen Sie sodann die Länge der Strecke $\overline{P_1T_1}$.

4 P

B 4.3 Bestimmen Sie durch Rechnung, um wie viel Prozent das Volumen der Pyramide T_1BCDP_1 kleiner ist als das Volumen der Pyramide ABCDS.

[Zwischenergebnis: $|\overline{F_1P_1}| = 6,87 \text{ cm}$]

4 P

B 4.4 Für die Pyramide T_2BCDP_2 gilt: $|\overline{CP_2}| = |\overline{CT_2}|$.

Berechnen Sie den zugehörigen Wert für x.

2 P

B 4.5 In der Pyramide T_3BCDP_3 hat der Winkel $\sphericalangle BT_3D$ das Maß 90° .

Bestimmen Sie den zugehörigen Wert für x.

2 P

Bitte wenden!