

**Abschlussprüfung 2009  
an den Realschulen in Bayern**

**Mathematik II**

**Nachtermin**

**Lösungsvorschlag von StR(RS) Karsten Reibold – Stand: 29.05.2013**

Aufgabe A1

Dreieck GAH:

$$\tan 40^\circ = \frac{\overline{GH}}{\overline{AH}} \Leftrightarrow \overline{AH} = \frac{31,5 \text{ cm}}{\tan 40^\circ} = 37,5 \text{ cm}$$

$$\overline{GA} = \sqrt{\overline{GH}^2 + \overline{AH}^2} \text{ cm} = \sqrt{31,5^2 + 37,5^2} \text{ cm} = \sqrt{2398,5} \text{ cm} = 49 \text{ cm}$$

$$\overline{BC} = \overline{AM} - \overline{AH} = 70 \text{ cm} - 37,5 \text{ cm} = 32,5 \text{ cm}$$

$$M_{\text{GAB}} = \pi \cdot \overline{GH} \cdot \overline{GA} = \pi \cdot 31,5 \cdot 49 \text{ cm}^2$$

$$M_{\text{GBCF}} = 2 \cdot \pi \cdot \overline{GH} \cdot \overline{BC} = 2 \cdot \pi \cdot 31,5 \cdot 32,5 \text{ cm}^2$$

$$A_{\text{FEDC}} = (\overline{MF}^2 - \overline{ME}^2) \cdot \pi = (63^2 - 15^2) \cdot \pi \text{ cm}^2$$

$$O_{\text{HalbkugelEMD}} = 2 \cdot \pi \cdot \overline{ME}^2 = 2 \cdot \pi \cdot 15^2 \text{ cm}^2$$

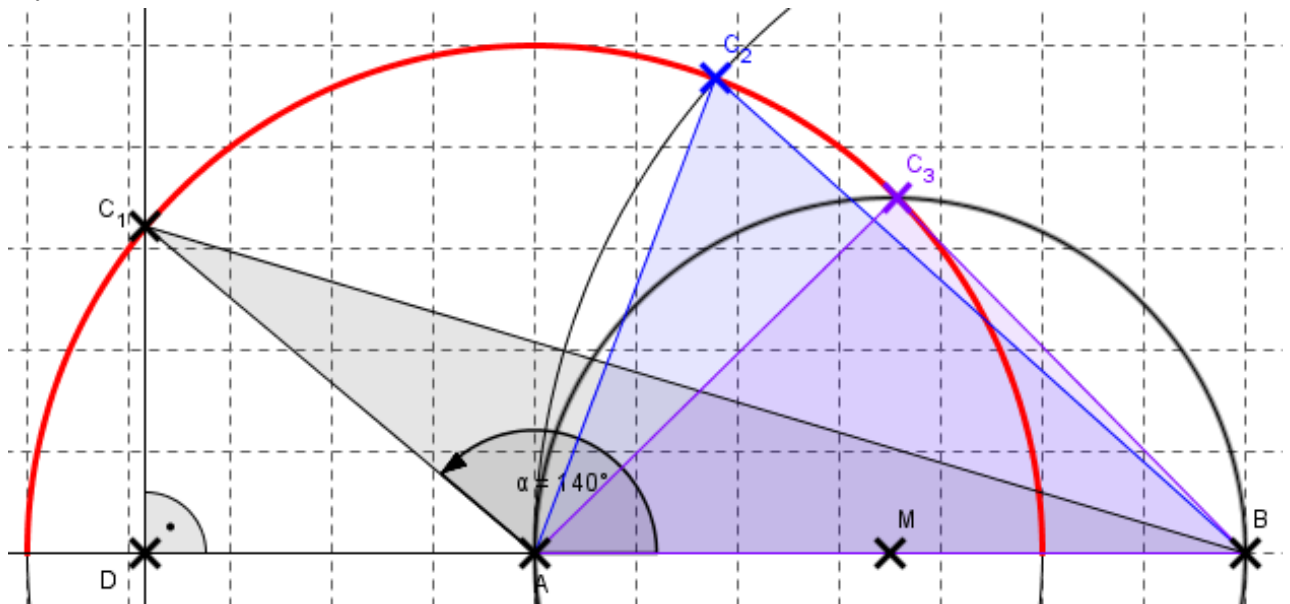
Alles zusammen:

$$M = (\pi \cdot 31,5 \cdot 49 + 2 \cdot \pi \cdot 31,5 \cdot 32,5 + (31,5^2 - 15^2) \cdot \pi + 2 \cdot \pi \cdot 15^2) \text{ cm}^2$$

$$\Leftrightarrow M = 15105,6 \text{ cm}^2 = 151,056 \text{ dm}^2 = 1,51056 \text{ m}^2$$

Also die größere Dose, da die kleine gerade so nicht reicht.

Aufgabe A2  
2.1



$$A_1 = 0,5 \cdot \sin \alpha_1 \cdot \overline{AB} \cdot \overline{AC}$$

$$\Leftrightarrow A_1 = 0,5 \cdot \sin 140^\circ \cdot 7 \cdot 5 \text{ cm}^2 = 11,25 \text{ cm}^2$$

Dreieck ACD:

$$\sin (180^\circ - \alpha_1) = \frac{\overline{DC}}{\overline{AC}}$$

$$\Leftrightarrow \overline{DC} = \sin (180^\circ - \alpha_1) \cdot \overline{AC} = \sin 40^\circ \cdot 5 \text{ cm} = 3,21 \text{ cm}$$

2.2 Roter Halbkreis, der die Gerade AB nicht berührt.

2.3 Kosinus-Satz

$$\overline{AC_2}^2 = \overline{AB}^2 + \overline{BC_2}^2 - 2 \cdot \overline{AB} \cdot \overline{BC_2} \cdot \cos \sphericalangle C_2BA$$

$$\Leftrightarrow \cos \sphericalangle C_2BA = \frac{\overline{AC_2}^2 - \overline{AB}^2 - \overline{BC_2}^2}{-2 \cdot \overline{AB} \cdot \overline{BC_2}} = \frac{5^2 - 7^2 - 7^2}{-2 \cdot 7 \cdot 7} = 0,74$$

$$\Leftrightarrow \sphericalangle C_2BA = 41,85^\circ$$

2.4 Wenn das Dreieck gleichschenkelig ist, dann gilt:

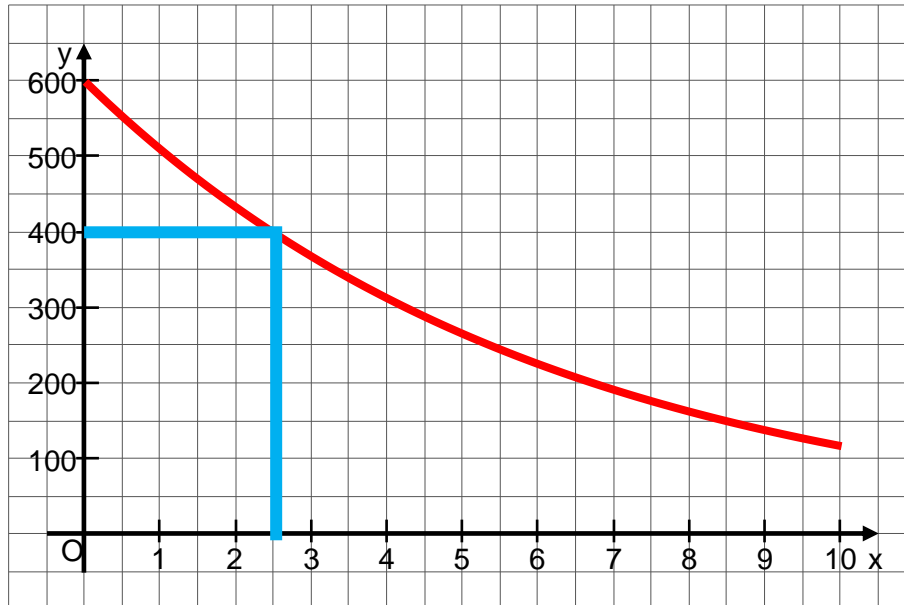
$$\overline{AC_3} = \overline{BC_3} \quad \text{und Pythagoras} \quad \overline{AB}^2 = \overline{AC_3}^2 + \overline{BC_3}^2$$

$$\Leftrightarrow 7^2 = 5^2 + 5^2 \quad (f)$$

## Aufgabe A3

3.1  $f: y = 600 \cdot 0,85^x$

x	0	1	2	4	6	8	10
y	600	510	434	313	226	163	118



3.2 Nach ca. 2,5 Stunden, also um 12:30 Uhr

[Rechnerisch nur Zweig I:  $400 = 600 \cdot 0,85^x$ 

$$\Leftrightarrow \frac{2}{3} = 0,85^x \Leftrightarrow x = \log_{0,85} \frac{2}{3} = 2,49 \quad \mathbb{L} = \{2,49\}]$$

3.3

$$y = 600 \cdot 0,85^{-1} \approx 706 \quad \mathbb{L} = \{706\}$$

Wer auf die „hoch minus 1“ nicht kommt, kann die Aufgabe auch anders lösen:

Vor 1 Jahr:

$$y \cdot 0,85 = 600 \Leftrightarrow y = 706$$

Oder nochmal anders:

$$600,00 \triangleq 85 \%$$

$$7,06 \triangleq 1 \%$$

$$706,00 \triangleq 100 \%$$

## Aufgabe B1

B 1.1 und B 1.2  $P(-1 \mid 4)$   $Q(3 \mid -4)$   $g: y = 0,2x + 3$

$$\text{I } 4 = (-1)^2 - b + c$$

$$\text{II } -4 = 3^2 + 3b + c$$

$$\Leftrightarrow \text{I } c = 3 + b$$

$$\text{II } c = -13 - 3b$$

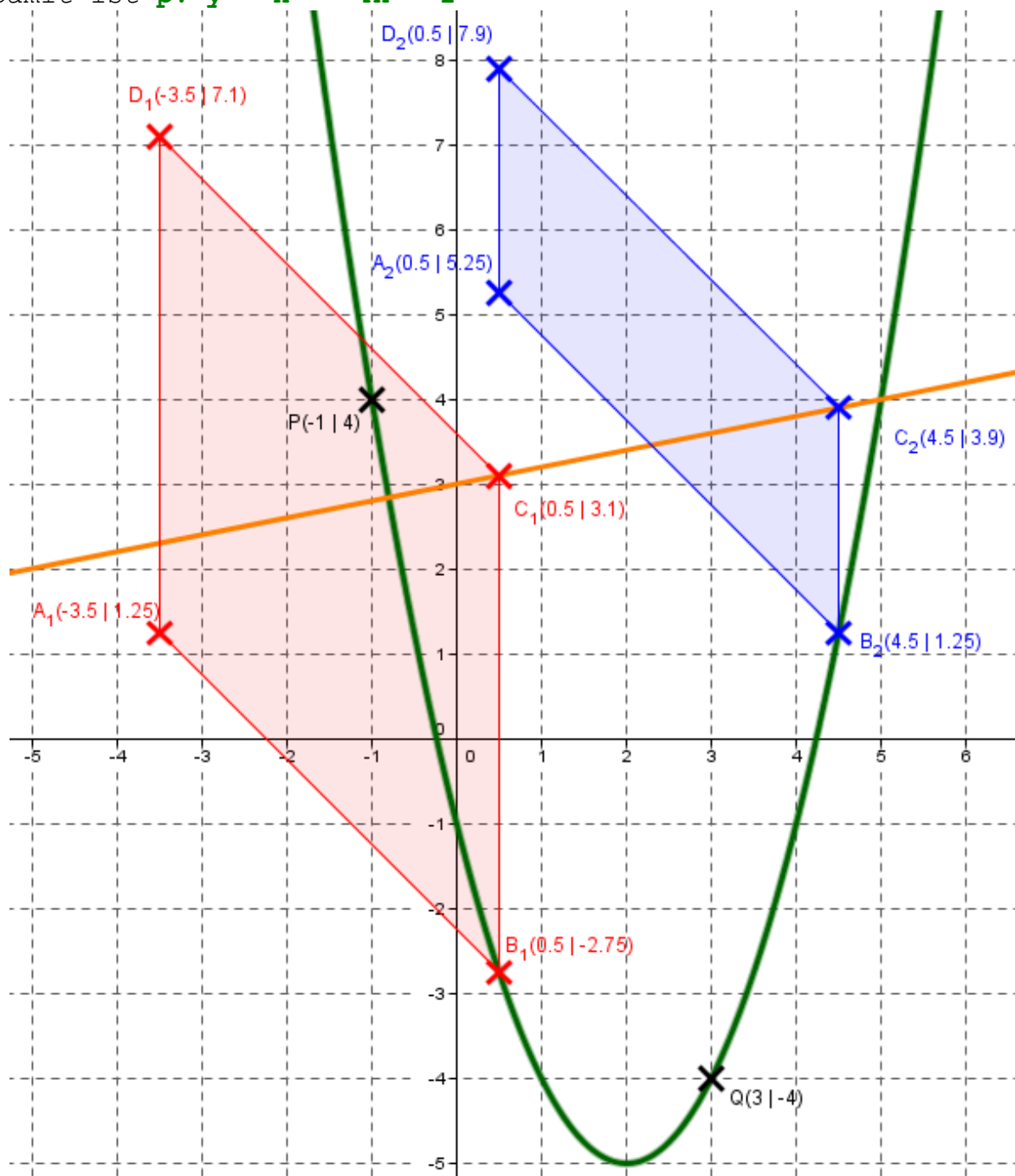
$$\text{I} = \text{II } 3 + b = -13 - 3b$$

$$\Leftrightarrow 4b = -16$$

$$\Leftrightarrow b = -4 \quad \text{in I}$$

$$c = 3 - 4 = -1$$

Damit ist  $p: y = x^2 - 4x - 1$



B 1.3

$$\overrightarrow{OA_1} = \overrightarrow{OB_1} \oplus \overrightarrow{B_1A_1}$$

$$\Leftrightarrow \overrightarrow{OA_1} = \begin{pmatrix} 0,5 \\ -2,75 \end{pmatrix} \oplus \begin{pmatrix} -4 \\ 4 \end{pmatrix} = \begin{pmatrix} -3,5 \\ 1,25 \end{pmatrix}$$

B 1.4

$$\overline{B_n C_n} = \sqrt{(x - x)^2 + (0,2x + 3 - (x^2 - 4x - 1))^2} \text{ LE}$$

$$\Leftrightarrow \overline{B_n C_n} = (0,2x + 3 - x^2 + 4x + 1) \text{ LE}$$

$$\Leftrightarrow \overline{B_n C_n} = (-x^2 + 4,2x + 4) \text{ LE}$$

$$A(x) = 4 \cdot (-x^2 + 4,2x + 4) \text{ FE}$$

$$\Leftrightarrow A(x) = (-4x^2 + 16,8x + 16) \text{ FE}$$

$$40 = -4x^2 + 16,8x + 16$$

$$\Leftrightarrow -4x^2 + 16,8x - 24 = 0$$

$$D = 16,8^2 - 4 \cdot (-4) \cdot (-24) = -101,76$$

$D < 0 \Rightarrow$  Keine Lösung  $\Rightarrow$  Nein, so ein Parallelogramm gibt es nicht.

B 1.5

Jede Gerade  $B_n A_n$  hat die Steigung  $-1$ .

$$\tan \alpha = -1 \Leftrightarrow \alpha = -45 \text{ bzw. } \alpha = 180^\circ - 45^\circ = 135^\circ$$

$$135^\circ - 90^\circ = 45^\circ$$

B 1.6

$$\overline{B_3 A_3} = \sqrt{(-4)^2 + 4^2} \text{ cm} = \sqrt{32} \text{ cm}$$

$$\sphericalangle B_3 A_3 C_3 = 30^\circ \text{ Damit ist } \sphericalangle A_3 C_3 B_3 = 180^\circ - 30^\circ - 45^\circ = 105^\circ$$

Sinus-Satz im Dreieck  $A_3 B_3 C_3$ :

$$\frac{\overline{B_3 C_3}}{\sin \sphericalangle B_3 A_3 C_3} = \frac{\overline{B_3 A_3}}{\sin \sphericalangle A_3 C_3 B_3}$$

$$\Leftrightarrow \overline{B_3 C_3} = \frac{\sqrt{32} \cdot \sin \sphericalangle B_3 A_3 C_3}{\sin \sphericalangle A_3 C_3 B_3} \text{ cm}$$

$$\Leftrightarrow \overline{B_3 C_3} = \frac{\sqrt{32} \cdot \sin 30^\circ}{\sin 105^\circ} \text{ cm} = 2,93 \text{ cm}$$

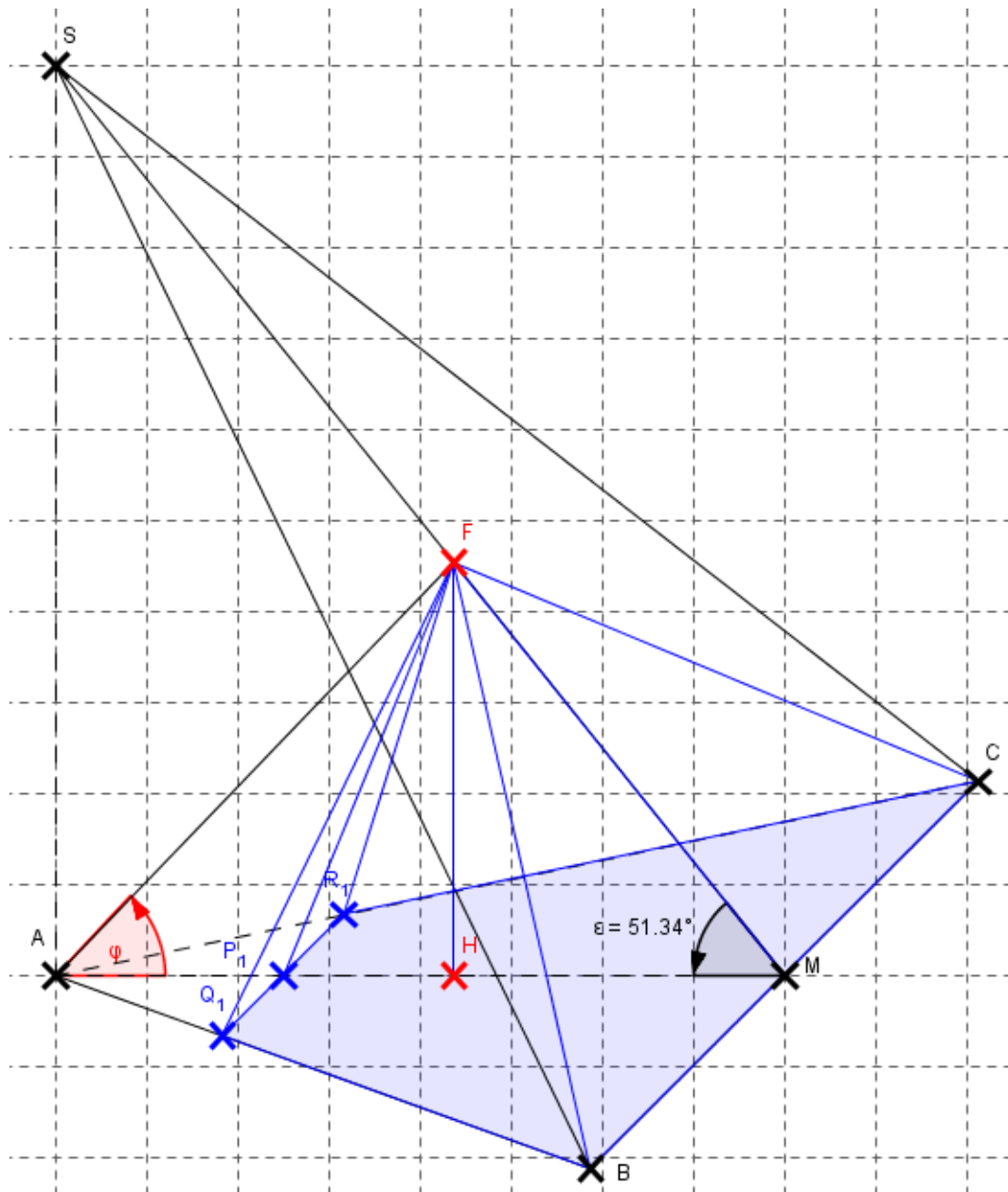
## Aufgabe B2

B 2.1

Dreieck ABM:

$$\overline{BM} = \sqrt{\overline{AB}^2 - \overline{AM}^2} \text{ cm} = \sqrt{10^2 - 8^2} \text{ cm} = \sqrt{36} \text{ cm} = 6 \text{ cm}$$

$$\overline{BC} = 2 \cdot \overline{BM} = 2 \cdot 6 \text{ cm} = 12 \text{ cm}$$



B 2.2

Dreieck AMS:

$$\overline{MS} = \sqrt{\overline{AS}^2 + \overline{AM}^2} \text{ cm} = \sqrt{10^2 + 8^2} \text{ cm} = \sqrt{164} \text{ cm} = 12,81 \text{ cm}$$

tan  $\varepsilon$ 

$$= \frac{\overline{AS}}{\overline{AM}} = \frac{10}{8} = 1,25 \quad \Leftrightarrow \quad \varepsilon = 51,34^\circ$$

B 2.3

Kosinus-Satz im Dreieck AMF:

$$\overline{AF}^2 = \overline{AM}^2 + \overline{FM}^2 - 2 \cdot \overline{AM} \cdot \overline{FM} \cdot \cos \varepsilon$$

$$\Leftrightarrow \overline{AF}^2 = (8^2 + (12,81 - 7)^2 - 2 \cdot 8 \cdot (12,81 - 7) \cdot \cos 51,34^\circ) \text{ cm}^2$$

$$\Leftrightarrow \overline{AF}^2 = 39,68 \text{ cm}^2$$

$$\Leftrightarrow \overline{AF} = 6,30 \text{ cm}$$

Sinus-Satz im Dreieck AMF:

$$\frac{\sin \varphi}{\overline{FM}} = \frac{\sin \varepsilon}{\overline{AF}}$$

$$\Leftrightarrow \sin \varphi = \frac{\sin \varepsilon \cdot \overline{FM}}{\overline{AF}}$$

$$\Leftrightarrow \sin \varphi = \frac{\sin 51,34^\circ \cdot (12,81 - 7) \text{ cm}}{6,30 \text{ cm}} = 0,72$$

$$\Leftrightarrow \varphi = 46,07^\circ$$

B 2.4

Vierstreckensatz im Bereich ABC:

$$\frac{\overline{Q_n R_n}(x)}{\overline{BC}} = \frac{\overline{P_n A}(x)}{\overline{AM}}$$

$$\Leftrightarrow \overline{Q_n R_n}(x) = \frac{\overline{P_n A}(x) \cdot \overline{BC}}{\overline{AM}} \text{ cm}$$

$$\Leftrightarrow \overline{Q_n R_n}(x) = \frac{(8 - x) \cdot 12}{8} \text{ cm}$$

$$\Leftrightarrow \overline{Q_n R_n}(x) = (8 - x) \cdot 1,5 \text{ cm}$$

$$\Leftrightarrow \overline{Q_n R_n}(x) = (12 - 1,5x) \text{ cm}$$

B 2.5

Dreieck HMF:

$$\sin \varepsilon = \frac{\overline{HF}}{\overline{MF}}$$

$$\Leftrightarrow \overline{HF} = \sin \varepsilon \cdot \overline{MF} \text{ cm}$$

$$\Leftrightarrow \overline{HF} = \sin 51,34^\circ \cdot (12,81 - 7) \text{ cm} = 4,54 \text{ cm}$$

$$V(x) = \frac{1}{3} \cdot 0,5 \cdot (\overline{BC} + \overline{Q_n R_n}(x)) \cdot x \cdot \overline{HF} \text{ cm}^3$$

$$\Leftrightarrow V(x) = \frac{1}{3} \cdot 0,5 \cdot (12 + (12 - 1,5x)) \cdot x \cdot 4,54 \text{ cm}^3$$

$$\Leftrightarrow V(x) = \frac{1}{3} \cdot 0,5 \cdot (24 - 1,5x) \cdot x \cdot 4,54 \text{ cm}^3$$

$$\Leftrightarrow V(x) = (-1,14x^2 + 18,16x) \text{ cm}^3$$

B 2.6

$$V_{ABCS} = \frac{1}{3} \cdot 0,5 \cdot \overline{BC} \cdot \overline{AM} \cdot \overline{AS} \text{ cm}^3$$

$$\Leftrightarrow V_{ABCS} = \frac{1}{3} \cdot 0,5 \cdot 12 \cdot 8 \cdot 10 \text{ cm}^3 = 160 \text{ cm}^3$$

25 % von 160 sind 40 Also:

$$40 = -1,14x^2 + 18,16x$$

$$\Leftrightarrow 1,14x^2 - 18,16x + 40 = 0$$

$$x_{1/2} = \frac{-b \pm \sqrt{b^2 - 4ac}}{2a} = \frac{18,16 \pm \sqrt{(-18,16)^2 - 4 \cdot 1,14 \cdot 40}}{2 \cdot 1,14}$$

$$= \frac{18,16 \pm \sqrt{147,3856}}{2,28}$$

$$\Rightarrow x_1 = 2,64 \text{ (und } x_2 = 13,29) \quad \mathbb{L} = \{2,64\}$$