

Abschlussprüfung 2005 an den Realschulen in Bayern

Mathematik II

Nachtermin

Lösungsvorschlag von StR(RS) Karsten Reibold – Stand: 30.06.2013

Aufgabe D1 **g: $y = -0,25x + 3$**

D 1.1 Q(-3 | 9) R(4 | 7,25)

I $9 = a \cdot (-3)^2 - 0,5 \cdot (-3) + c$

II $7,25 = a \cdot 4^2 - 0,5 \cdot 4 + c$

\Leftrightarrow I $c = 7,5 - 9a$

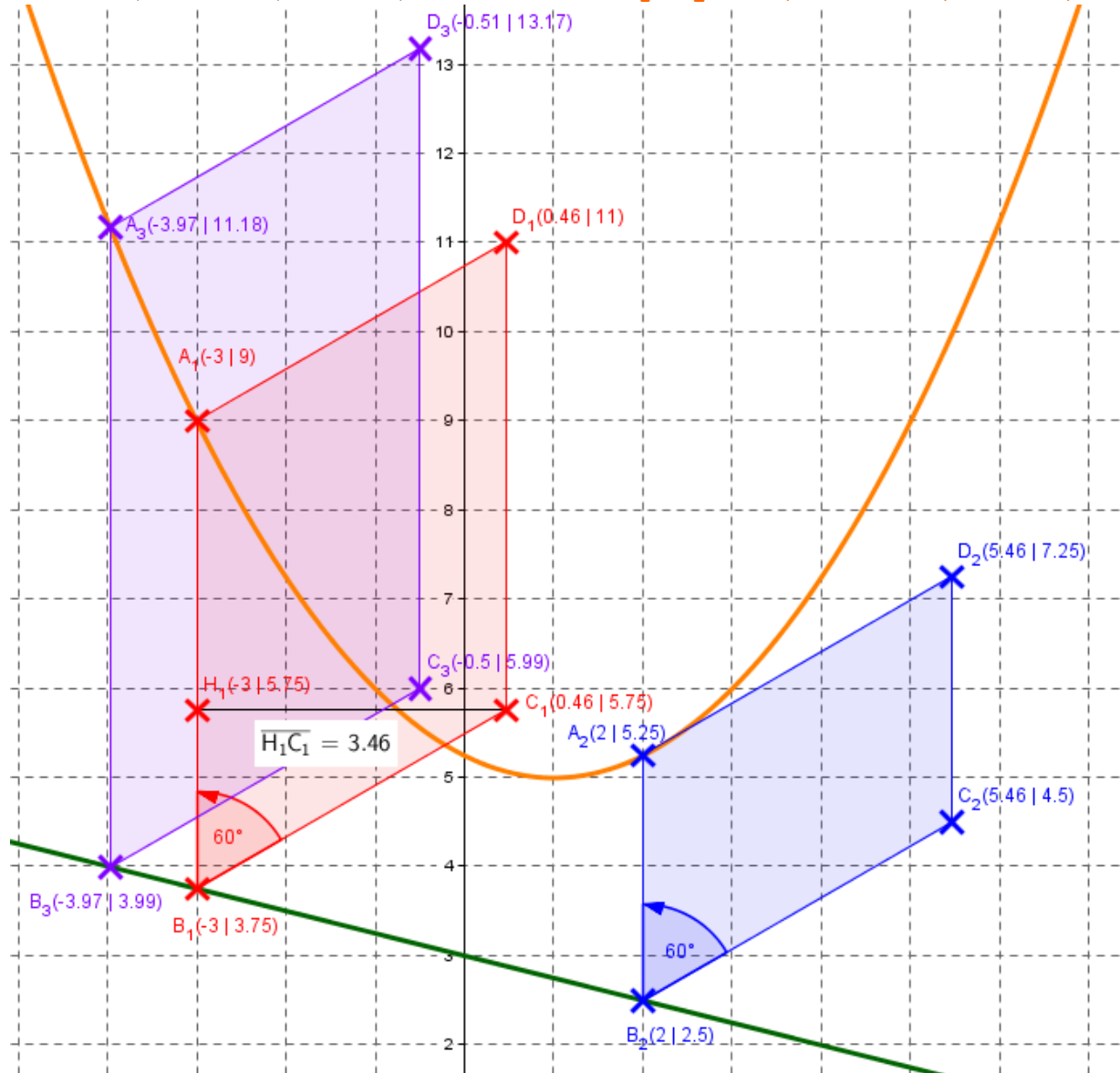
II $c = 9,25 - 16a$

I = II $7,5 - 9a = 9,25 - 16a$

\Leftrightarrow $7a = 1,75$

\Leftrightarrow $a = 0,25$ in I

I $c = 7,5 - 9 \cdot 0,25 = 5,25$ Damit ist **p: $y = 0,25x^2 - 0,5x + 5,25$**



D 1.2

Dreieck $B_n C_n H_n$:

$$\sin 60^\circ = \frac{\overline{H_n C_n}}{\overline{B_n C_n}}$$

$$\Leftrightarrow \overline{H_n C_n} = \sin 60^\circ \cdot \overline{B_n C_n} = \sin 60^\circ \cdot 4 \text{ LE} = 3,46 \text{ LE}$$

D 1.3

Wenn C_3 den x-Wert $x = -0,5$ hat, müssen A_3 und B_3 den x-Wert $x = -0,5 - 3,46 = -3,96$ haben. Eingesetzt in g ergibt sich:

$$y = -0,25 \cdot (-3,96) + 3 = 3,99 \text{ und damit } B_3(-3,96 \mid 3,99).$$

$$\tan 60^\circ = \frac{\overline{H_n C_n}}{\overline{B_n H_n}}$$

$$\overline{B_n H_n} = \frac{\overline{H_n C_n}}{\tan 60^\circ} = \frac{3,46}{\tan 60^\circ} \text{ LE} = 2 \text{ LE}$$

$$\text{Damit ist } C_3(-0,5 \mid 3,99 + 2) \Rightarrow C_3(-0,5 \mid 5,99)$$

(Durch Runden minimale Abweichungen in den Beschriftungen der Zeichnung).

D 1.4

$$\overline{A_n B_n}(x) =$$

$$\sqrt{(x - x)^2 + (0,25x^2 - 0,5x + 5,25 - (-0,25x + 3))^2}$$

$$\Leftrightarrow \overline{A_n B_n}(x) = (0,25x^2 - 0,5x + 5,25 + 0,25x - 3) \text{ LE}$$

$$\Leftrightarrow \overline{A_n B_n}(x) = (0,25x^2 - 0,25x + 2,25) \text{ LE}$$

$$A(x) = (0,25x^2 - 0,25x + 2,25) \cdot 3,46 \text{ FE}$$

$$\Leftrightarrow A(x) = (0,865x^2 - 0,865x + 7,785) \text{ FE}$$

$$A_{\min} = 0,865(x^2 + x) + 7,785$$

$$\Leftrightarrow A_{\min} = 0,865(x^2 + x + 0,5^2 - 0,5^2) + 7,785$$

$$\Leftrightarrow A_{\min} = 0,865(x - 0,5)^2 + 7,56875$$

$$\text{Damit ist } A_{\min} = 7,56875 \text{ FE für } x = 0,5.$$

D 1.5

$$4 = 0,25x^2 - 0,25x + 2,25$$

$$\Leftrightarrow 0,25x^2 - 0,25x - 1,75 = 0$$

$$x_{1/2} = \frac{-b \pm \sqrt{b^2 - 4ac}}{2a} = \frac{0,25 \pm \sqrt{(-0,25)^2 - 4 \cdot 0,25 \cdot (-1,75)}}{2 \cdot 0,25}$$

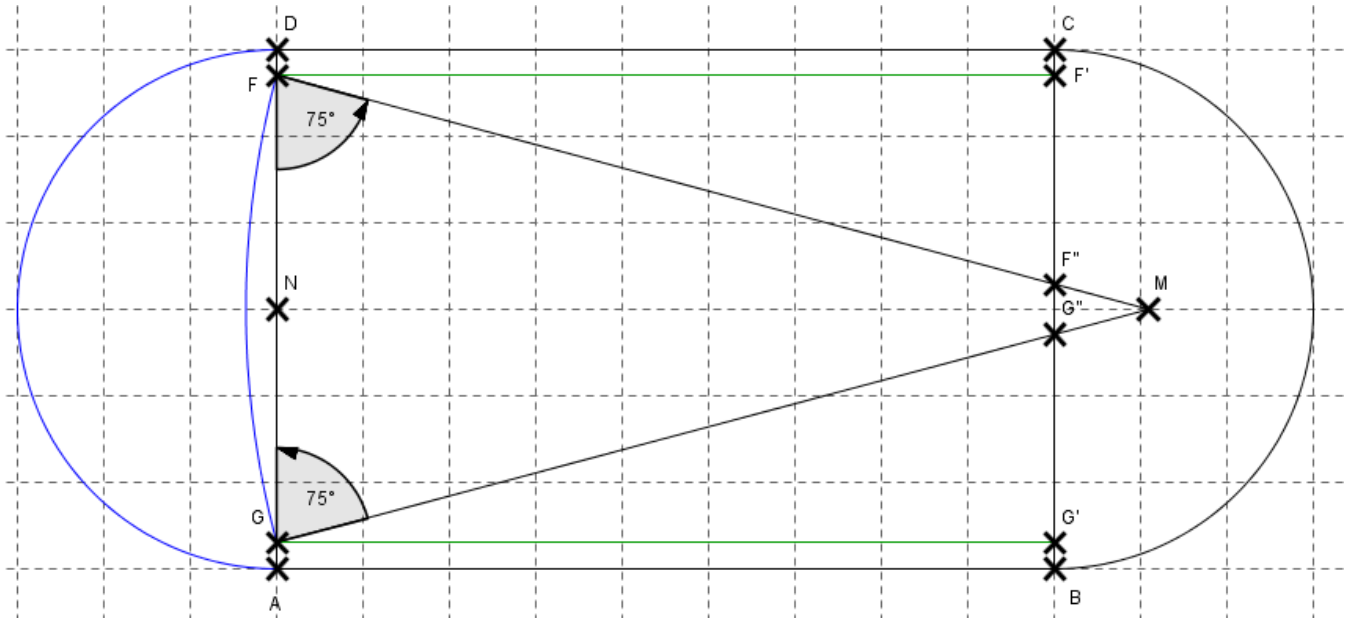
$$= \frac{0,25 \pm \sqrt{1,8125}}{0,5} \Rightarrow x_1 = 3,19 \text{ und } x_2 = -2,19 \quad \mathbb{L} = \{-2,19; 3,19\}$$

Aufgabe D2

Es gibt bei fast allen Teilaufgaben ganz verschiedene Lösungswege, so dass die (Teil-)Ergebnisse durchaus ohne einen Fehler bei einem anderen Lösungsweg abweichen können!

D 2.1

Maßstab: 1:1000



D 2.2

$$\sphericalangle FMG = 180^\circ - 75^\circ - 75^\circ = 30^\circ$$

Sinus-Satz:

$$\frac{\overline{MF}}{\sin 75^\circ} = \frac{\overline{FG}}{\sin 30^\circ}$$

$$\Leftrightarrow \overline{MF} = \frac{\overline{FG} \cdot \sin 75^\circ}{\sin 30^\circ} \text{ m}$$

$$\Leftrightarrow \overline{MF} = \frac{54 \cdot \sin 75^\circ}{\sin 30^\circ} \text{ m} = 104,32 \text{ m}$$

$$A_{\text{Sektor}} = \overline{MF}^2 \cdot \pi \cdot \frac{30^\circ}{360^\circ} \text{ m}^2 = 104,32^2 \cdot \pi \cdot \frac{30^\circ}{360^\circ} \text{ m}^2 = 2849,07 \text{ m}^2$$

D 2.3

Dreieck GNM:

$$\tan 75^\circ = \frac{\overline{NM}}{\overline{GN}}$$

$$\Leftrightarrow \overline{NM} = \tan 75^\circ \cdot \overline{GN} = \tan 75^\circ \cdot 27 \text{ m} = 100,77 \text{ m}$$

$$100,77 \text{ m} - 90 \text{ m} = 10,77 \text{ m} > 10 \text{ m A: Passt!}$$

D 2.4

Dreieck $FF''F'$:

$$\tan 15^\circ = \frac{\overline{F'F''}}{\overline{FF'}}$$

$$\Leftrightarrow \overline{F'F''} = \tan 15^\circ \cdot \overline{FF'} = \tan 15^\circ \cdot 90 \text{ m} = 24,12 \text{ m}$$

$$A_{\text{Rasen}} = A_{\text{Rechteck}FGG'F'} - 2 \cdot A_{FF''F'}$$

$$\Leftrightarrow A_{\text{Rasen}} = 90 \text{ m} \cdot 54 \text{ m} - 2 \cdot 0,5 \cdot 90 \text{ m} \cdot 24,12 \text{ m} = 2689,20 \text{ m}^2$$

15 % von 2689,20 sind 403,38

A: Es muss auf einer Fläche von 403,38 m² der Rasen erneuert werden.

D 2.5

$$A_{\text{SegmentGNF}} = A_{\text{Sektor}} - A_{\text{GMF}}$$

$$\Leftrightarrow A_{\text{SegmentGNF}} = 2849,07 \text{ m}^2 - 0,5 \cdot \overline{GF} \cdot \overline{NM}$$

$$\Leftrightarrow A_{\text{SegmentGNF}} = 2849,07 \text{ m}^2 - 0,5 \cdot 54 \text{ m} \cdot 100,77 \text{ m} = 128,28 \text{ m}^2$$

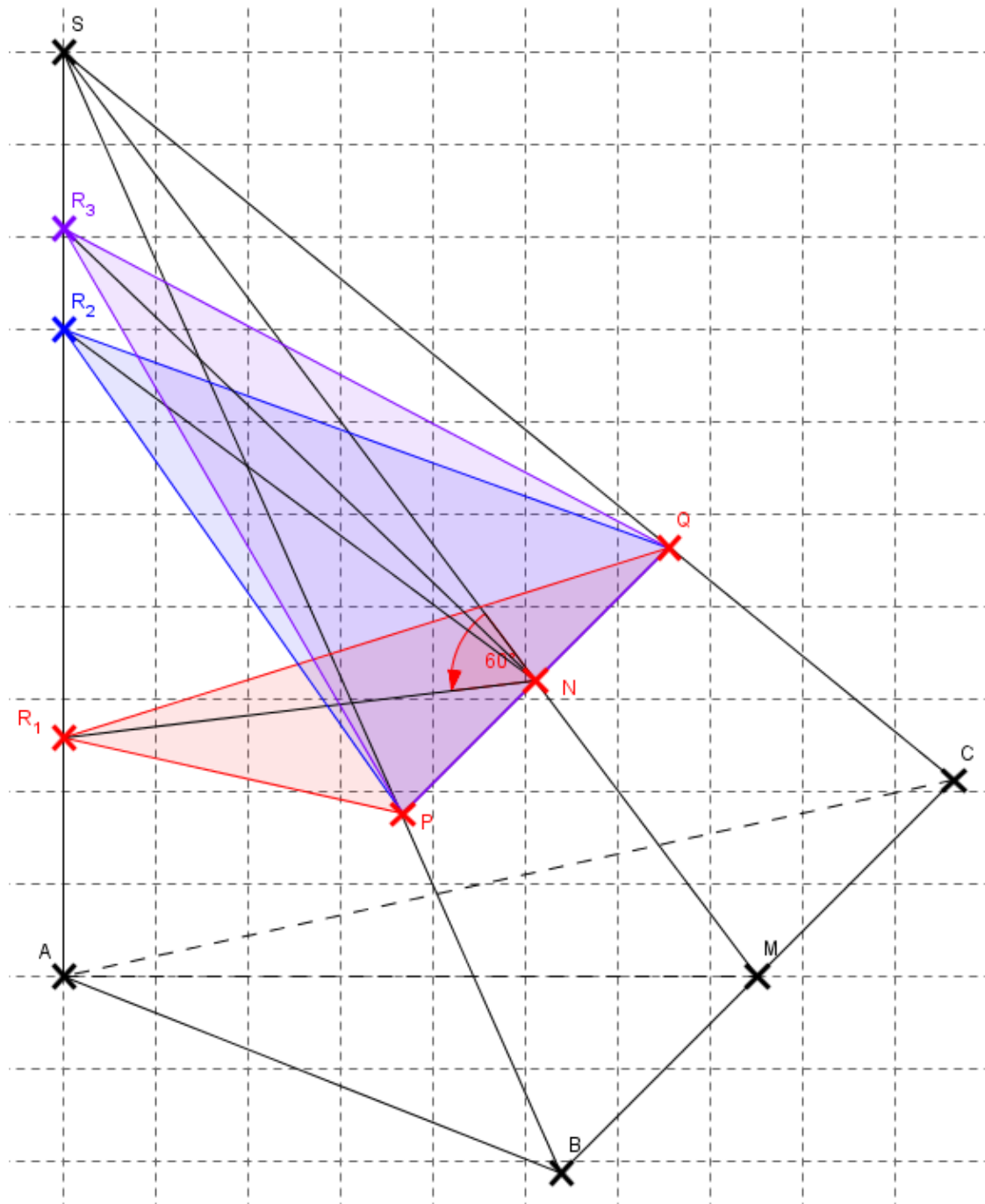
$$A_{\text{Halbkreis}} = 0,5 \cdot \overline{ND}^2 \cdot \pi$$

$$\Leftrightarrow A_{\text{Halbkreis}} = 0,5 \cdot 30^2 \cdot \pi \text{ m}^2 = 1413,72 \text{ m}^2$$

$$A_{\text{Hochsprung}} = 1413,72 \text{ m}^2 - 128,28 \text{ m}^2 = 1285,44 \text{ m}^2$$

$$\text{Kostenpunkt: } 1285,44 \cdot 18,50 \text{ €} = 23780,64 \text{ €}$$

Aufgabe D3
D 3.1



D 3.2
Dreieck AMS:

$$\tan \sphericalangle SMA = \frac{\overline{AS}}{\overline{AM}} = \frac{10}{7,5} = 1,33 \Leftrightarrow \sphericalangle SMA = 53,13^\circ$$

$$\overline{MS} = \sqrt{\overline{AS}^2 + \overline{AM}^2} \text{ cm} = \sqrt{10^2 + 7,5^2} \text{ cm} = \sqrt{156,25} \text{ cm} = 12,50 \text{ cm}$$

$$V = \frac{1}{3} \cdot 0,5 \cdot \overline{AM} \cdot \overline{BC} \cdot \overline{AS}$$

$$\Leftrightarrow V = \frac{1}{3} \cdot 0,5 \cdot 7,5 \cdot 12 \cdot 10 \text{ cm}^3 = 150 \text{ cm}^3$$

D 3.3

Vierstreckensatz im Bereich SBC:

$$\frac{\overline{PQ}}{\overline{BC}} = \frac{\overline{SN}}{\overline{SM}}$$

$$\Leftrightarrow \overline{PQ} = \frac{\overline{SN} \cdot \overline{BC}}{\overline{SM}} \text{ cm} = \frac{8,50 \cdot 12}{12,50} \text{ cm} = 8,16 \text{ cm}$$

$$\sphericalangle ASM = 180^\circ - 90^\circ - 53,13^\circ = 36,87^\circ$$

$$\sphericalangle NR_1S = 180^\circ - 60^\circ - 36,87^\circ = 83,13^\circ$$

Sinus-Satz im Dreieck R_1NS :

$$\frac{\overline{R_1N}}{\sin 36,87^\circ} = \frac{\overline{SN}}{\sin 83,13^\circ}$$

$$\Leftrightarrow \overline{R_1N} = \frac{\overline{SN} \cdot \sin 36,87^\circ}{\sin 83,13^\circ} \text{ cm} = \frac{8,50 \cdot \sin 36,87^\circ}{\sin 83,13^\circ} \text{ cm} = 5,14 \text{ cm}$$

$$A_1 = 0,5 \cdot \overline{PQ} \cdot \overline{R_1N} = 0,5 \cdot 8,16 \text{ cm} \cdot 5,14 \text{ cm} = 20,97 \text{ cm}^2$$

D 3.4

Kosinus-Satz im Dreieck R_2NS :

$$\overline{R_2N}^2 = \overline{SN}^2 + \overline{SR_2}^2 - 2 \cdot \overline{SN} \cdot \overline{SR_2} \cdot \cos 36,87^\circ$$

$$\Leftrightarrow \overline{R_2N}^2 = (8,50^2 + 3^2 - 2 \cdot 8,50 \cdot 3 \cdot \cos 36,87^\circ) \text{ cm}^2$$

$$\Leftrightarrow \overline{R_2N}^2 = 40,45 \text{ cm}^2$$

$$\Leftrightarrow \overline{R_2N} = 6,36 \text{ cm}$$

Dreieck PNR_2 :

$$\tan \sphericalangle PR_2N = \frac{\overline{PN}}{\overline{R_2N}} = \frac{4,08}{6,36} = 0,64 \Leftrightarrow \sphericalangle PR_2N = 32,68^\circ$$

$$\sphericalangle PR_2Q = 2 \cdot \sphericalangle PR_2N = 2 \cdot 32,68^\circ = 65,36^\circ$$

D 3.5

Dreieck PNR_3 :

$$\overline{NR_3} = \sqrt{\overline{PR_3}^2 - \overline{PN}^2} \text{ cm} = \sqrt{8,16^2 - 4,08^2} \text{ cm} = \sqrt{49,94} \text{ cm} = 7,07 \text{ cm}$$

Sinus-Satz im Dreieck R_3NS :

$$\frac{\sin \sphericalangle NR_3S}{\overline{SN}} = \frac{\sin \sphericalangle ASM}{\overline{NR_3}}$$

$$\Leftrightarrow \sin \sphericalangle NR_3S = \frac{\sin \sphericalangle ASM \cdot \overline{SN}}{\overline{NR_3}} \text{ cm}$$

$$\Leftrightarrow \sin \sphericalangle NR_3S = \frac{\sin 36,87^\circ \cdot 8,50}{7,07} = 0,72 \Leftrightarrow (\sphericalangle NR_3S = 46,17^\circ)$$

und wegen Zeichnung $\sphericalangle NR_3S = 133,83^\circ$