

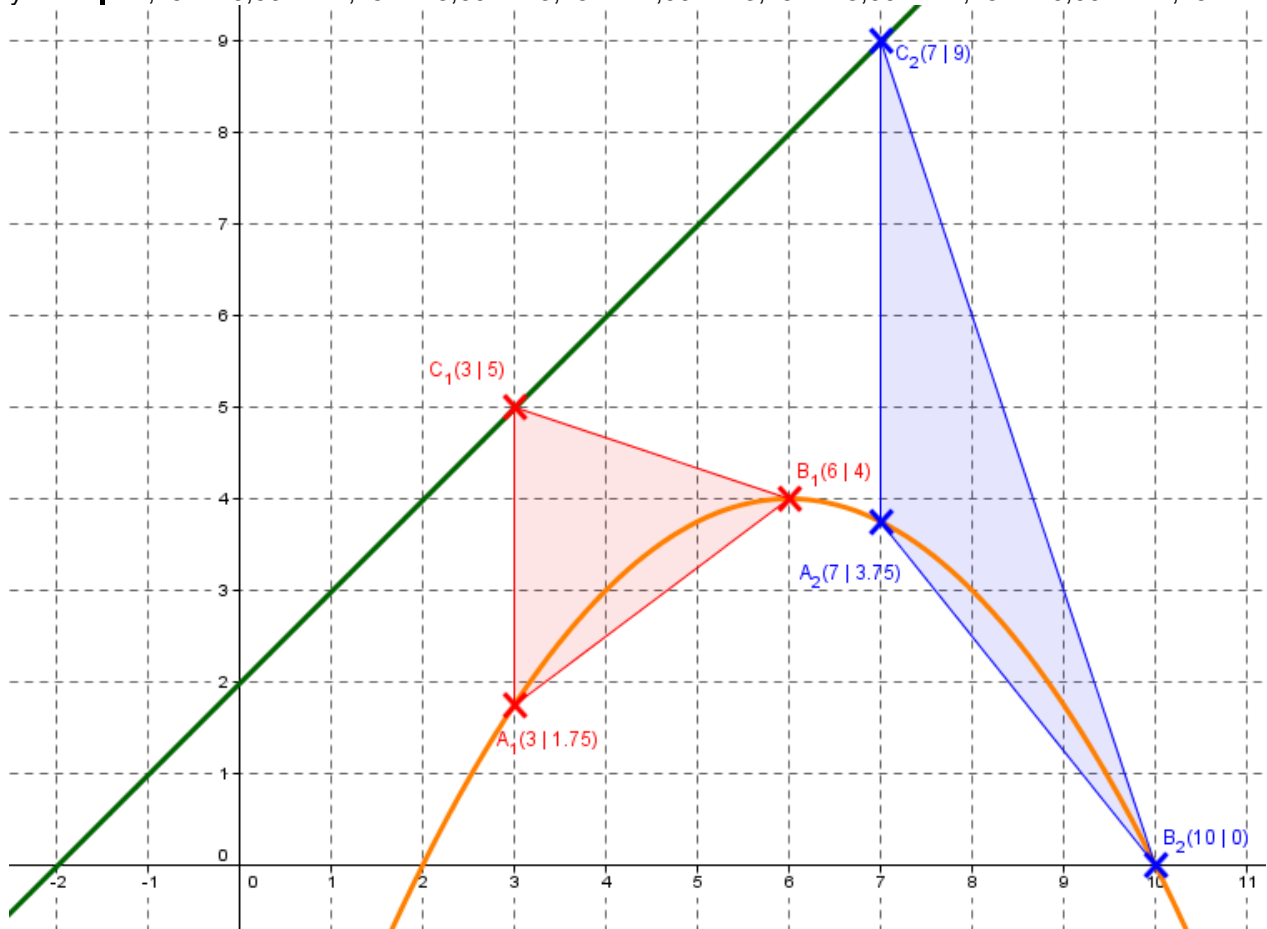
Abschlussprüfung 2000 an den Realschulen in Bayern

Mathematik II Aufgabengruppe B Lösungsvorschlag von StR(RS) Karsten Reibold – Stand: 09.06.2017

Aufgabe B1

B 1.1 $p: y = -0,25x^2 + 3x - 5$ $g: y = x + 2$ $A(-3 \mid -2)$

x	1,00	2,00	3,00	4,00	5,00	6,00	7,00	8,00	9,00	10,00	11,00
y	-2,25	0,00	1,75	3,00	3,75	4,00	3,75	3,00	1,75	0,00	-2,25



B 1.2

x-Koordinate: $x + 3$ y-Koordinate: $y = -0,25(x + 3)^2 + 3(x + 3) - 5$

$$\Leftrightarrow y = -0,25(x^2 + 6x + 9) + 3x + 9 - 5$$

$$\Leftrightarrow y = -0,25x^2 - 1,5x - 2,25 + 3x + 4$$

$$\Leftrightarrow y = -0,25x^2 + 1,5x + 1,75$$

Damit ist $B_n(x + 3 \mid -0,25x^2 + 1,5x + 1,75)$.

B 1.3

$$\overline{A_n B_n}(x) = \sqrt{(x + 3 - x)^2 + (-0,25x^2 + 1,5x + 1,75 - (-0,25x^2 + 3x - 5))^2} \text{ LE}$$

$$\Leftrightarrow \overline{A_n B_n}(x) = \sqrt{3^2 + (-0,25x^2 + 1,5x + 1,75 + 0,25x^2 - 3x + 5)^2} \text{ LE}$$

$$\Leftrightarrow \overline{A_n B_n}(x) = \sqrt{3^2 + (-1,5x + 6,75)^2} \text{ LE}$$

$$\Leftrightarrow \overline{A_n B_n}(x) = \sqrt{9 + 2,25x^2 - 20,25x + 45,5625} \text{ LE}$$

$$\Leftrightarrow \overline{A_n B_n}(x) = \sqrt{2,25x^2 - 20,25x + 54,5625} \text{ LE}$$

$$3,75 = \sqrt{2,25x^2 - 20,25x + 54,5625}$$

$$\Leftrightarrow 14,0625 = 2,25x^2 - 20,25x + 54,5625$$

$$\Leftrightarrow 2,25x^2 - 20,25x + 40,5 = 0$$

$$x_{1/2} = \frac{-b \pm \sqrt{b^2 - 4ac}}{2a} = \frac{20,25 \pm \sqrt{(-20,25)^2 - 4 \cdot 2,25 \cdot 40,5}}{2 \cdot 2,25}$$

$$= \frac{20,25 \pm \sqrt{45,5625}}{4,5} \Rightarrow x_1 = 6 \text{ und } x_2 = 3 \quad \mathbb{L} = \{3; 6\}$$

B 1.4

$$x + 2 = -0,25x^2 + 1,5x + 1,75$$

$$\Leftrightarrow -0,25x^2 + 0,5x - 0,25 = 0$$

$$D = 0,5^2 - 4 \cdot (-0,25) \cdot (-0,25) = 0$$

Wenn $D = 0$, gibt es genau 1 Lösung für x ($x = 1$).

B 1.5

$$\tan 45^\circ = 1$$

$$m_{A_5 B_5} = \frac{-0,25x^2 + 1,5x + 1,75 - (-0,25x^2 + 3x - 5)}{x + 3 - x}$$

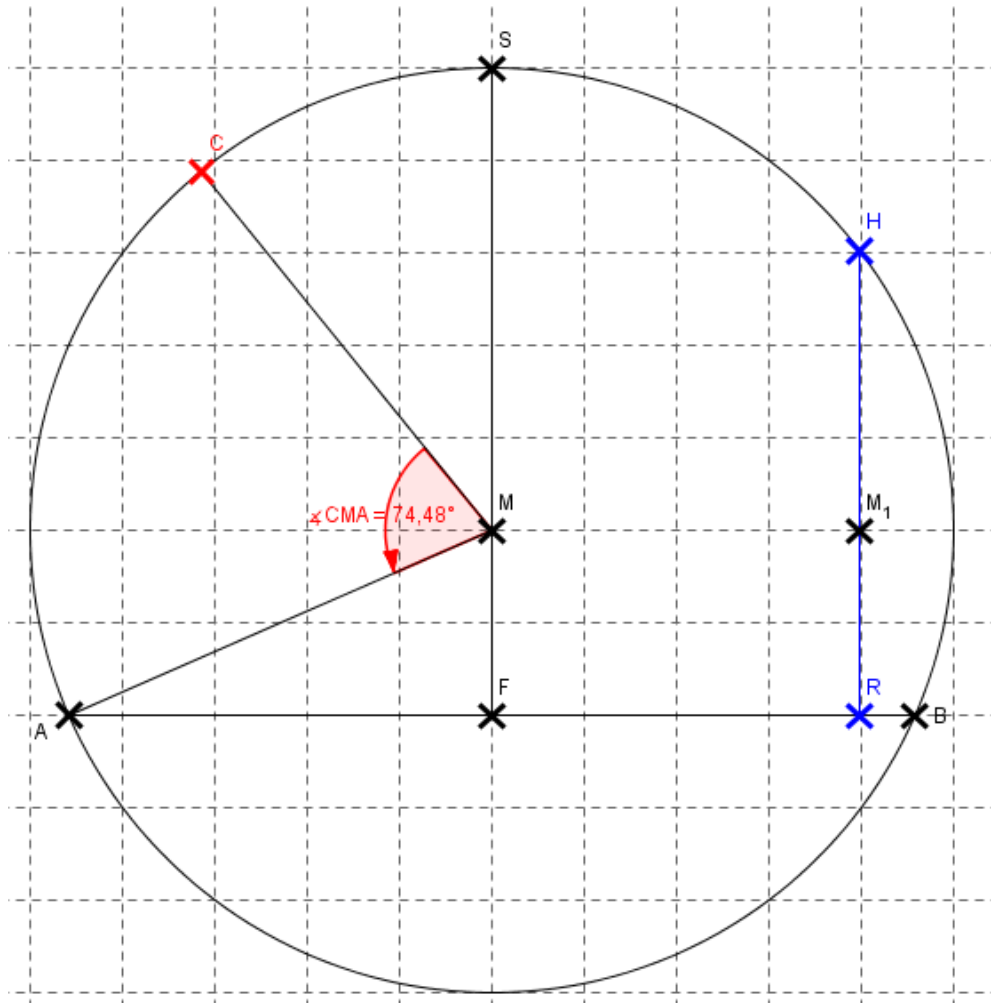
$$\Leftrightarrow 1 = \frac{-1,5x + 6,75}{3}$$

$$\Leftrightarrow 3 = -1,5x + 6,75$$

$$\Leftrightarrow 1,5x = 3,75$$

$$\Leftrightarrow x = 2,5 \quad \mathbb{L} = \{2,5\} \quad \text{und } B_5(5,5 \mid 3,9375)$$

Aufgabe B2
B 2.1



Dreieck AFM:

$$\cos \sphericalangle AMF = \frac{\overline{MF}}{\overline{AM}} = \frac{2}{5} = 0,4 \Leftrightarrow \sphericalangle AMF = 66,42^\circ$$

$$\sphericalangle AMB = 2 \cdot \sphericalangle AMF = 2 \cdot 66,42^\circ = 132,84^\circ$$

$$A_{\text{schraffiert}} = A_{\text{Sektor}} - A_{\text{ABM}}$$

$$\Leftrightarrow A_{\text{schraffiert}} = (\overline{AM}^2 \cdot \pi \cdot \frac{132,84^\circ}{360^\circ} - 0,5 \cdot \sin 132,84^\circ \cdot \overline{AM}^2) \text{ m}^2$$

$$\Leftrightarrow A_{\text{schraffiert}} = (5^2 \cdot \pi \cdot \frac{132,84^\circ}{360^\circ} - 0,5 \cdot \sin 132,84^\circ \cdot 5^2) \text{ m}^2$$

$$\Leftrightarrow A_{\text{schraffiert}} = 19,82 \text{ m}^2$$

B 2.2

$$A_{\text{ABM}} = 0,5 \cdot \overline{AB} \cdot \overline{MF}$$

$$\Leftrightarrow 0,5 \cdot \sin 132,84^\circ \cdot \overline{AM}^2 = 0,5 \cdot \overline{AB} \cdot \overline{MF}$$

$$\Leftrightarrow \overline{AB} = \frac{\sin 132,84^\circ \cdot \overline{AM}^2}{\overline{MF}} \text{ m} = \frac{\sin 132,84^\circ \cdot 5^2}{2} \text{ m} = 9,17 \text{ m}$$

B 2.3

$$b = \overline{AM} \cdot \pi \cdot \frac{\sphericalangle CMA}{180^\circ}$$

$$\Leftrightarrow \sphericalangle CMA = \frac{b \cdot 180^\circ}{\overline{AM} \cdot \pi} = \frac{6,5 \cdot 180^\circ}{5 \cdot \pi} = 74,48^\circ$$

B 2.4

Kosinus-Satz im Dreieck AMC:

$$\overline{CA}^2 = \overline{AM}^2 + \overline{MC}^2 - 2 \cdot \overline{AM} \cdot \overline{MC} \cdot \cos 74,48^\circ$$

$$\Leftrightarrow \overline{CA}^2 = (5^2 + 5^2 - 2 \cdot 5 \cdot 5 \cdot \cos 74,48^\circ) \text{ m}^2$$

$$\Leftrightarrow \overline{CA}^2 = 36,62 \text{ m}^2$$

$$\Leftrightarrow \overline{CA} = 6,05 \text{ m}$$

$$\sphericalangle CMF = 74,48^\circ + 66,42^\circ = 140,9^\circ$$

Kosinus-Satz im Dreieck FMC:

$$\overline{CF}^2 = \overline{FM}^2 + \overline{MC}^2 - 2 \cdot \overline{FM} \cdot \overline{MC} \cdot \cos 140,9^\circ$$

$$\Leftrightarrow \overline{CF}^2 = (2^2 + 5^2 - 2 \cdot 2 \cdot 5 \cdot \cos 140,9^\circ) \text{ m}^2$$

$$\Leftrightarrow \overline{CF}^2 = 44,52 \text{ m}^2$$

$$\Leftrightarrow \overline{CF} = 6,67 \text{ m}$$

B 2.5

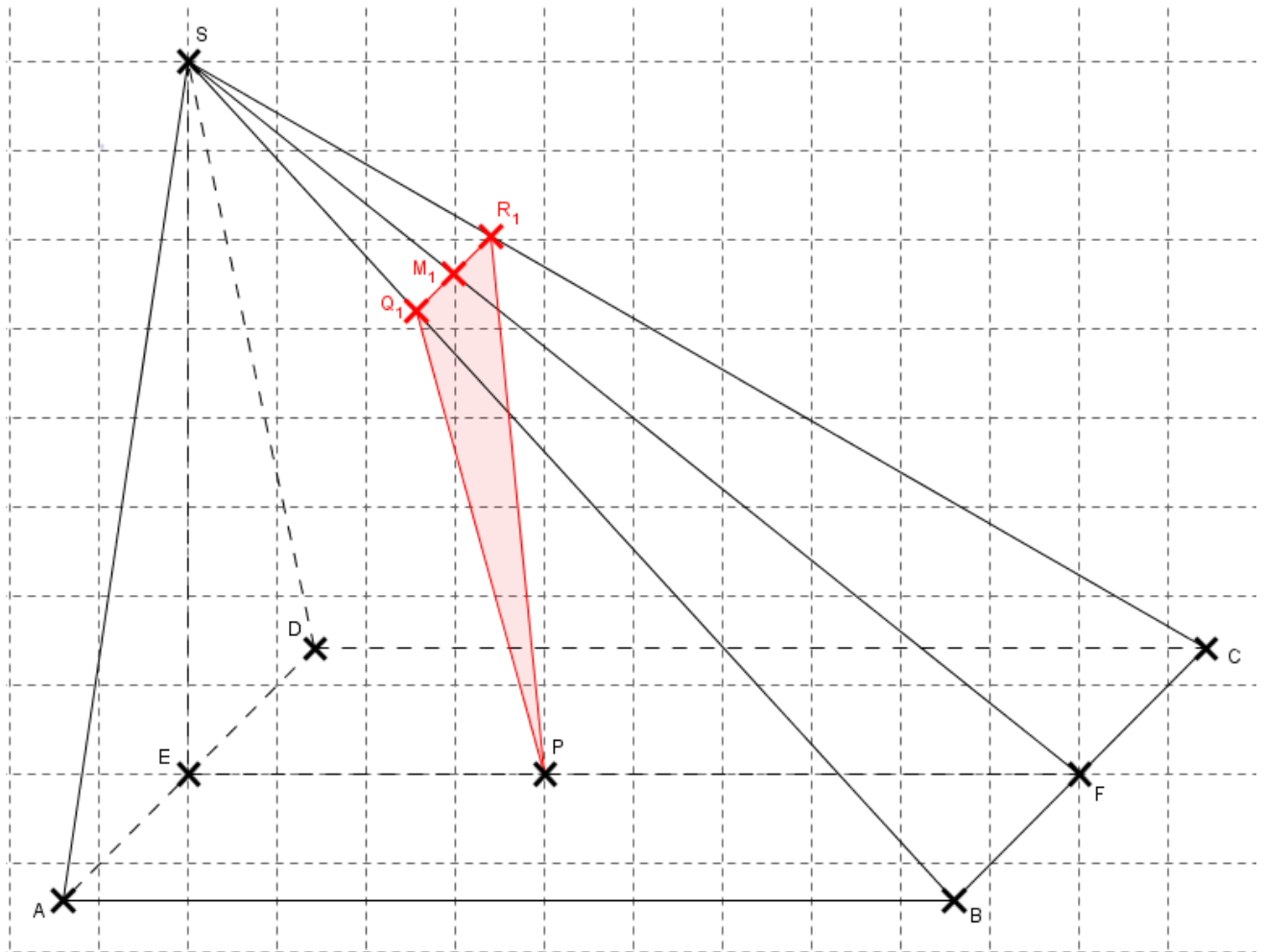
Dreieck FRH:

$$\overline{M_1H} = \sqrt{\overline{MH}^2 - \overline{MM_1}^2} \text{ m} = \sqrt{5^2 - (9,17 : 2 - 0,6)^2} \text{ m}$$

$$\Leftrightarrow \overline{M_1H} = \sqrt{9,12} \text{ m} = 3,02 \text{ m}$$

$$\overline{RH} = \overline{M_1H} + 2 \text{ m} = 5,02 \text{ m}$$

Aufgabe B3
B 3.1



Dreieck EFS:

$$\tan \sphericalangle SFE = \frac{\overline{ES}}{\overline{EF}} = \frac{8}{10} = 0,8 \Leftrightarrow \sphericalangle SFE = 38,66^\circ$$

$$\overline{FS} = \sqrt{\overline{ES}^2 + \overline{EF}^2} \text{ cm} = \sqrt{8^2 + 10^2} \text{ cm} = \sqrt{164} \text{ cm} = 12,81 \text{ cm}$$

B 3.2

Vierstrecken-Satz im Dreieck SBC:

$$\frac{\overline{Q_1R_1}}{\overline{BC}} = \frac{\overline{SM_1}}{\overline{SF}}$$

$$\overline{Q_1R_1} = \frac{\overline{SM_1} \cdot \overline{BC}}{\overline{SF}} \text{ cm} = \frac{(12,81 - 9) \cdot 8}{12,81} \text{ cm} = 2,38 \text{ cm}$$

Kosinus-Satz im Dreieck PFM_1 :

$$\begin{aligned}\overline{PM_1}^2 &= \overline{FM_1}^2 + \overline{PF}^2 - 2 \cdot \overline{FM_1} \cdot \overline{PF} \cdot \cos 38,66^\circ \\ \Leftrightarrow \overline{PM_1}^2 &= (9^2 + 6^2 - 2 \cdot 9 \cdot 6 \cdot \cos 38,66^\circ) \text{ cm}^2 \\ \Leftrightarrow \overline{PM_1}^2 &= 32,67 \text{ cm}^2 \\ \Leftrightarrow \overline{PM_1} &= 5,72 \text{ cm}\end{aligned}$$

$$\begin{aligned}A_1 &= 0,5 \cdot \overline{PM_1} \cdot \overline{Q_1R_1} \text{ cm}^2 \\ \Leftrightarrow A_1 &= 0,5 \cdot 5,72 \cdot 2,38 \text{ cm}^2 = 6,81 \text{ cm}^2\end{aligned}$$

B 3.3

$$\sphericalangle PM_2F = 180^\circ - 75^\circ - 38,66^\circ = 66,34^\circ$$

Sinus-Satz im Dreieck PFM_2 :

$$\begin{aligned}\frac{x}{\sin \sphericalangle FPM_2} &= \frac{\overline{PF}}{\sin \sphericalangle PM_2F} \\ \Leftrightarrow x &= \frac{\overline{PF} \cdot \sin \sphericalangle FPM_2}{\sin \sphericalangle PM_2F} = \frac{6 \cdot \sin 75^\circ}{\sin 66,34^\circ} = 6,33\end{aligned}$$

B 3.4

Wenn $\overline{PM_3}$ minimal wird, dann steht $[PM_3]$ senkrecht auf $[FS]$ und es muss gelten:

$$\sin 38,66^\circ = \frac{\overline{PM_3}}{\overline{PF}}$$

$$\overline{PM_3} = \sin 38,66^\circ \cdot \overline{PF} \text{ cm} = \sin 38,66^\circ \cdot 6 \text{ cm} = 3,75 \text{ cm}$$

Die Höhe wird maximal, wenn P_n bis S wandert:

Dreieck EPS :

$$\overline{PS} = \sqrt{\overline{EP}^2 + \overline{ES}^2} \text{ cm} = \sqrt{4^2 + 8^2} \text{ cm} = \sqrt{80} \text{ cm} = 8,94 \text{ cm}$$

Also gilt:

$$3,75 \leq \overline{PM_n} <^* 8,94$$

* kein „kleiner gleich“, da die Punkte M_n Mittelpunkte von $[Q_nR_n]$ sind, und wenn M_n auf S liegt, existiert diese Strecke nicht mehr.